

La civilización griega.

1. Observa este mapa del Mediterráneo Oriental y completa:



Civilización A

Nombre de la ciudad:
Civilización:
Cronología:
Construcción más importante:

Civilización B

Nombre de la civilización:
Cronología:
Construcción más importante:

- a) ¿Cómo se llama el mar que baña todas estas islas?
- b) Explica por qué las características geográficas de Grecia facilitaron la aparición de pequeñas ciudades estado y animó a que los griegos fuesen excelentes navegantes y comerciantes.

2. Completa con los términos adecuados las siguientes frases relacionadas con la civilización griega.

- a) *El conjunto de una ciudad-estado griega y el conjunto del territorio circundante se llamaba*
- b) *Durante la época las polis griegas experimentaron un gran desarrollo económico y comercial.*
- c) *Los acontecimientos más importantes que marcan el inicio de la época Arcaica son: el desarrollo de y la utilización de*
- d) *Las guerras del Peloponeso enfrentaron a*
- e) *Las guerras Médicas acabaron con la derrota de, convirtiendo a en la ciudad más poderosa.*
- f) *Durante la época ,II de Macedonia dominó todas las ciudades-estado griegas.*
- g) *Los griegos extendieron, y por todos los países que conquistaron y por las nuevas ciudades que crearon.*
- h) *La religión griega era y sus dioses tenían forma Las historias de gran contenido religioso que explicaban sus vidas se llaman como las recogidas por en la Ilíada y la Odisea.*





3. Indica durante qué etapa de la historia de Grecia se inició la fundación de colonias comerciales por el Mediterráneo. Explica sus causas y sus consecuencias.


4. Marca con una X en la etapa en la que se produjeron cada uno de los acontecimientos.

	Época arcaica	Época clásica	Época helenística
Guerra del Peloponeso			
Gobierno de Pericles			
Filipo II conquista las polis griegas			
División del Imperio de Alejandro Magno			
Primera Guerra Médica			
Colonización griega			

5. Explica las diferencias entre los grupos sociales de Atenas y de Esparta.

6. Completa el siguiente cuadro sobre el arte y la cultura griega.

Época	Duración	Características	Obras
Clásica			
		Armonía de las proporciones y serenidad de la expresión	
			
	Hasta el siglo VI a.C.		

			
--	--	--	---

7. Escribe la relación correcta entre las frases:

- | | |
|---------------------------------------|---|
| a) Las polis griegas unidas... | 1... no pudo conquistar Grecia |
| b) Las Guerras Médicas... | 2....favoreció la victoria griega. |
| c) La intervención de los hoplitas... | 3... confirmaron la supremacía de Atenas y Esparta. |
| d) Al perder la guerra, Persia... | 4. ...derrotaron a Persia. |

RESPUESTAS:

Frase 1: (a-4)

Frase 2:

Frase 3:

Frase 4:

8. Lee las siguientes afirmaciones e indica si son *verdaderas (V)* o *falsas (F)*. Las que sean falsas pon las de forma correcta.

- Las relaciones entre las polis fueron siempre pacíficas y amistosas.
- En el siglo V Atenas y Esparta se convirtieron en las polis más importantes.
- Los griegos tenían una religión monoteísta.

- d. Alejandro Magno extendió la civilización griega hasta la India.
- e. Los griegos creían que los dioses más importantes vivían en el Olimpo.
- f. La acrópolis era la plaza o el mercado principal de la polis.
- g. Las Guerras Médicas dan inicio a la época Helenística.
- h. Los metecos eran campesinos que vivían en Esparta.

9. Explica las características de la civilización Cretense y Micénica, indicando dónde se ubicaban, en qué periodo de tiempo se desarrollaron, cómo era su economía y sociedad, que construcciones realizaron, etc.

10. Define de la forma más completa los siguientes términos:

- *Hélade:*
- Democracia:
- Cultura minoica:

- Cultura micénica:
- Mito:
- Homero:
- Acrópolis:
- Ágora:
- Oligarquía:
- Tirano:
- Hoplita:
- Colonia: