



1. Objetivo

Conocer las causas del origen de las primeras civilizaciones históricas, su organización política, economía, religión e innovaciones tecnológicas para ser capaces de comparar y contrastar con destreza sus civilizaciones y analizar alguna ciudad concreta en la actualidad a través de un folleto monográfico.

2. Actividades

1. **Explica por qué las primeras civilizaciones nacieron a orillas de grandes ríos? Pon dos ejemplos.**

Principalmente se debía a la fertilidad de las tierras de las cuencas fluviales de los ríos Tigris y Eufrates. Esto permitió que las primeras poblaciones se establecieran allí. De estas tierras se obtenían grandes excedentes agrícolas que ayudaron al crecimiento de los poblados y a su transformación en ciudades. En consecuencia, la sociedad se hizo más compleja y numerosa, el comercio se desarrolló, y las disputas por las tierras fértiles y las rutas comerciales llevó a las primeras grandes guerras de la historia.

Ejemplos: las primeras grandes civilizaciones en la región de Mesopotamia fueron los sumerios, acadios o babilonios.

2. **Responde a estas preguntas sobre la civilización mesopotámica.**

a. ¿Cómo se llamaban los ríos entorno a los cuales surgieron las primeras civilizaciones?

Tigris y Eufrates

b. Cita tres culturas o civilizaciones que se desarrollaron en ellos.

Sumerios, Asirios, Babilonios

c. ¿Qué civilización levantó las primeras ciudades? Escribe el nombre de dos ciudades mesopotámicas importantes.

Sumerios. Ur, Uruk, Lagash, Larsa, Nipur, Susa...

d. ¿Qué nombre recibe esta región geográfica del Mediterráneo donde se ubica Mesopotamia?

Próximo Oriente

3. Explica cómo era la economía de Mesopotamia indicando:

- La mayoría de la población se dedicaba: **a la agricultura y la ganadería**
- Los impuestos que pagaban eran: **en especie al templo de la ciudad.**
- El tipo de comercio que practicaban era: **al principio era el trueque, más tarde se intercambiaron barras de oro y plata para conseguir metales.**
- La razón de que hubiera conflictos entre los pueblos de Mesopotamia era porque: **por el control de las tierras más fértiles y de las rutas comerciales.**

4. Explica por qué se inventó la escritura. ¿Qué permitió?

Surge como necesidad de llevar el control de los impuestos y aportaciones al templo en las ciudades mesopotámicas. Surge hacia el 3.500 a.C. Permitió llevar la contabilidad de la ciudad, la elaboración y difusión de leyes. También aparecen poemas y crónicas relacionadas con los dioses y héroes de las ciudades. También sirvió para desarrollar el comercio.

5. Explica cómo eran las primeras ciudades que surgieron en la región de Mesopotamia. Pon ejemplos.

Las ciudades mesopotámicas eran independientes unas de otras y controlaban a las aldeas circundantes. Estaban gobernadas por un rey-sacerdote (Patesi) que protegía el templo, la ciudad y controlaba la economía. Las ciudades estaban rodeadas por murallas de ladrillo y solían tener un zigurat, que era el edificio más importante.

6. Indica el concepto que va asociado con cada una de estas frases. Elígelos de las palabras que hay en el recuadro.

- Los excedentes agrícolas permitieron a los artesanos desarrollar **el comercio**
- Los administradores y los escribas de las ciudades. **funcionarios.**
- Las ciudades que surgieron en Mesopotamia basaron su riqueza y prosperidad en su **agricultura.**
- Las primeras leyes escritas de la historia **código de Hammurabi**
- Eran frecuentes las guerras entre ciudades. Esto hizo aumentar el número de **esclavos**
- Ur, Uruk, Lagash, Eridú, Nínive, Akad, etc **ciudades-estado**
- Ríos de Mesopotamia entre los que se desarrollaron las primeras civilizaciones. **Tigris y Eufrates.**
- Algunas civilizaciones mesopotámicas. **Sumerios, Babilonios o Acadios**

agricultura; ciudades-estado; esclavos; funcionarios; código de Hammurabi; comercio; Tigris y Eufrates; Sumerios, Babilonios o Akadios;

7. Identifica los siguientes elementos de las civilizaciones mesopotámicas.

Imagen A	Imagen B	Imagen C	Imagen D	Imagen E	Imagen F
<i>Zigurat</i>	<i>Tablilla de escritura cuneiforme</i>	<i>Puerta de Ishtar de Babilonia</i>	<i>Escultura del rey Gudea de la ciudad de Lagash</i>	<i>Estela de Naram-Sin</i>	<i>Monolito con el rey Hammurabi y su código de leyes</i>



A



B



C



E

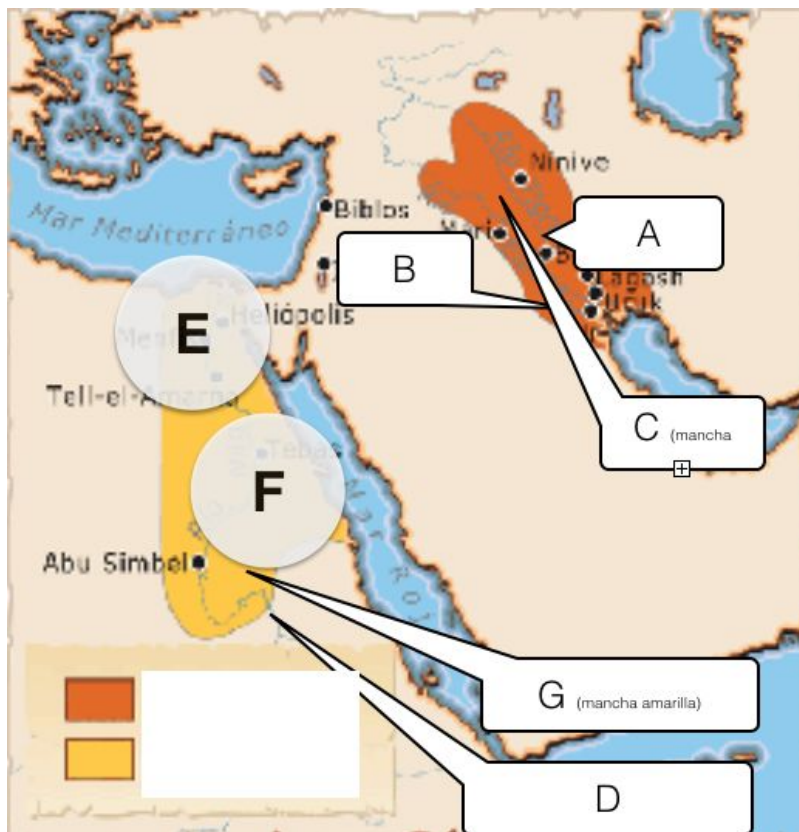


D



F

8. Observa la imagen e identifica cada uno de los lugares que se indican. Selecciona los lugares del recuadro de abajo.



Región de Mesopotamia, Alto Egipto, Río Eufrates, Río Nilo, Civilización egipcia, Río Tigris, Bajo Egipto

- A. Río Tigris
- B. Río Eufrates
- C. Región de Mesopotamia
- D. Río Nilo
- E. Bajo Egipto
- F. Alto Egipto
- G. Civilización Egipto

9. Indica marcando con una X si estas características son propias de Mesopotamia, Egipto o de ambas regiones.

Característica	Mesopotamia	Egipto	Ambas regiones
Existía un grupo social dedicado exclusivamente al culto a los dioses.			X
Existía en cada ciudad un edificio desde donde el máximo dirigente gobernaba, almacenaba el grano y se enseñaba a otras personas.	X		

Su máximo gobernante dirigía el gobierno y los asuntos religiosos los asumía el sumo sacerdote (patesi)	X		
Su máximo gobernante era considerado un Dios y poseía el poder absoluto.		X	
Era una sociedad más jerarquizada y más compleja. Su máximo gobernante reunía todos los poderes.		X	
Existía la esclavitud.			X
Existían funcionarios y sacerdotes.			X
En esta civilización el río era muy importante. Éste tenía una gran crecida anual que inundaba la tierra de sus orillas. Al retirarse las aguas, las riberas del río quedaban cubiertas de un fértil limo, donde se sembraban los cultivos. Por eso era tan importante el control del tiempo y de las estaciones del año		X	
Su religión prometía una vida después de la muerte.		X	
Los dioses eran antropomorfos.			X
Era una religión politeísta.			X
A los dioses se les rendía culto en edificios elevados, que eran residencia del sacerdote.	X		
Osiris, Isis, Thot, Ra		X	
Su religión permitía momificar el cadáver para la vida en el más allá.		X	
Su escritura era cuneiforme.	X		

10. Para los egipcios, la muerte y el más allá era muy importante. El dios egipcio de los muertos encargado de decidir si el difunto iba al más allá era Osiris

11. Indica si estas afirmaciones son verdaderas o falsas.

Afirmación	Verdadero (V)	Falso (F)
<i>Las ciudades egipcias eran independientes unas de otra, eran ciudades-estado que controlaban a las aldeas circundantes, gobernadas por un rey-sacerdote.</i>		X
<i>Las ciudades más antiguas que conocemos las realizaron los sumerios en Mesopotamia hacia el 3.700 a.C.</i>	X	
<i>Los egipcios eran politeístas porque sólo adoraban al dios Ra.</i>		X
<i>Todas las ciudades mesopotámicas estaban protegidas por murallas y sus viviendas estaban construidas con ladrillo. Todas ellas solían tener un zigurat desde donde se gobernaba la ciudad.</i>	X	
<i>Egipto y las civilizaciones surgidas en la región de Mesopotamia fueron las primeras regiones del mundo en la que nace la escritura.</i>	X	

12 . Identifica los siguientes objetos.

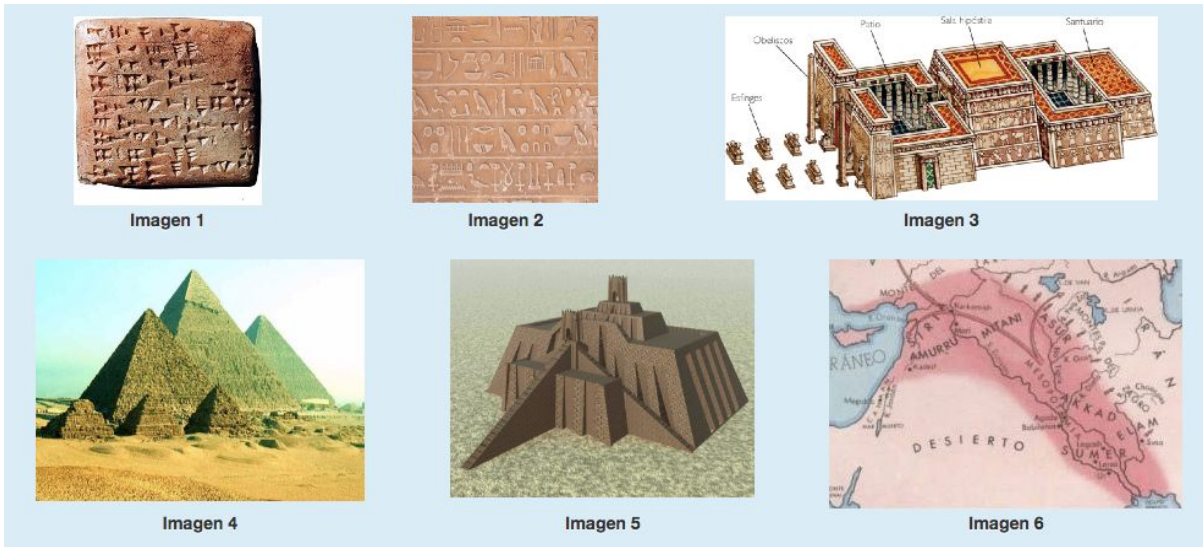



Imagen 1	Imagen 2	Imagen 3	Imagen 4	Imagen 5	Imagen 6
<i>Escritura cuneiforme</i>	<i>Escritura jeroglífica</i>	<i>Templo egipcio</i>	<i>Pirámides egipcias</i>	<i>zigurat mesopotámico</i>	<i>región de Mesopotamia</i>

13. Identifica correctamente estas imágenes, seleccionando el término adecuado del recuadro de abajo.




sarcófago hipogeo, mastaba, templo, pirámide antigua, pirámide más moderna

<i>A. Sarcófago de una momia egipcia</i>	<i>B. Hipogeo egipcio</i>	<i>C. Pirámide egipcia</i>	<i>D. Mastaba egipcia</i>	<i>E. Pirámide escalonada egipcia</i>	<i>F. Templo egipcio</i>
--	---------------------------	----------------------------	---------------------------	---------------------------------------	--------------------------

14- Observa la pirámide social de Egipto y complétala correctamente:

Sociedad egipcia



Número 1	Número 2	Número 3	Número 4
Sacerdotes y nobles	Faraón	Funcionarios y escribas	Soldados profesionales
Número 5	Número 6	Número 7	
Comerciantes y artesanos	Campesinos	Sirvientes y esclavos	

15. Lee las siguientes definiciones e indica el concepto con el que van relacionadas.

Definición	Término
Región de próximo Oriente delimitada por los ríos Tigris y Éufrates, muy fértil y donde a partir del 3.500 a.C. se desarrollaron las primeras civilizaciones históricas.	Mesopotamia
Sistema de codificación a través de pictogramas o sistemas silábicos que surgió a mediados del IV milenio en el sur de	Escritura cuneiforme

Mesopotamia como forma de controlar los pagos o impuestos a palacio.	
Primera civilización mesopotámica en entrar en la historia.	Sumeria
Civilización en la que existía un personaje que poseía el poder político y era considerado un Dios	Egipto
Un edificio que existía en las ciudades mesopotámicas cuya función era almacenar cosechas, se enseñaba a otros sacerdotes y desde donde se gobernaba la ciudad.	Zigurat

16. Compara y contrasta las primeras civilizaciones fluviales. Completa el siguiente esquema.

Civilización mesopotámica

Civilización egipcia

¿En qué se parecen?

--

**¿En qué se diferencian?
En cuanto a...**

Por tanto, ¿qué conclusiones extraes de la comparación?

--